




**A किसी काम को 10 दिनों में करता है तथा
B उसी काम को 20 दिनों में करता है तब
दोनों मिल कर इस कितने दिनों में करेगा ?**






**A किसी काम को 10 दिनों में करता है तथा
B उसी काम को 20 दिनों में करता है तब
दोनों मिल कर इस कितने दिनों में करेगा ?**





**A किसी काम को 10 दिनों में करता है तथा
B उसी काम को 20 दिनों में करता है तब
दोनों मिल कर इस कितने दिनों में करेगा ?**



**A किसी काम को 10 दिनों में करता है तथा
B उसी काम को 20 दिनों में करता है तब**

दोनों मिल कर इस कितने दिनों में करेगा ?

**A किसी काम को 10 दिनों में करता है तथा
B उसी काम को 20 दिनों में करता है तब
दोनों मिल कर इस कितने दिनों में करेगा ?**

**A किसी काम को 10 दिनों में करता है तथा
B उसी काम को 20 दिनों में करता है तब
दोनों मिल कर इस कितने दिनों में करेगा ?**

**A किसी काम को 10 दिनों में करता है तथा
B उसी काम को 20 दिनों में करता है तब
दोनों मिल कर इस कितने दिनों में करेगा ?**